

BACCALAURÉAT GÉNÉRAL
SESSION 2016

HISTOIRE-GÉOGRAPHIE
Séries ES et L

Série L : Durée : 4 heures – Coefficient 4
Série ES : Durée : 4 heures – Coefficient 5

Le candidat traite au choix **UN** des deux sujets de composition de la première partie, **ET** obligatoirement la seconde partie.

Dès la remise du dossier, assurez-vous qu'il soit complet.
Ce dossier comporte 4 pages numérotées de 1/4 à 4/4.

L'usage des calculatrices et de tout dictionnaire est interdit.

PREMIÈRE PARTIE

Le candidat choisit UN des deux sujets proposés.

SUJET I

COMPOSITION

La gouvernance économique, à l'échelle mondiale, depuis 1944.

SUJET II

COMPOSITION

Médias et opinion publique dans les grandes crises politiques en France depuis l'affaire Dreyfus.

SECONDE PARTIE

ÉTUDE CRITIQUE DE DEUX DOCUMENTS DE GÉOGRAPHIE

SUJET du thème : L'Afrique : les défis du développement

CONSIGNE de l'exercice :

À l'aide des deux documents et de vos connaissances, montrez les atouts et les potentialités de l'Afrique pour assurer son développement, mais aussi les défis qu'elle rencontre et les limites de ce développement.

DOCUMENT 1 :

Situation socio-économique du Ghana pour le Ministère des Affaires étrangères du Canada en 2015.

Le Ghana est une démocratie stable et paisible, en bonne voie d'atteindre son objectif de devenir un pays à revenu intermédiaire d'ici 2020. Il est salué comme un nouveau modèle de réussite économique en Afrique : ces dernières années, son taux de croissance a toujours dépassé les 6 %. Depuis 1992, cinq élections démocratiques consécutives y ont eu lieu, et deux transitions de gouvernement se sont déroulées dans la paix. D'autres pays d'Afrique se tournent maintenant vers le Ghana pour obtenir des conseils sur la tenue d'élections.

Depuis 1990, le gouvernement du Ghana a travaillé de près avec la communauté des donateurs et a réduit de près de moitié le nombre de personnes vivant dans l'extrême pauvreté. Cependant, environ 30 % des Ghanéen¹ vivent toujours avec moins de 1,25 \$US par jour. Environ 2 millions de personnes ont un accès limité à la nourriture, et les trois régions du Nord du pays sont régulièrement touchées par des pénuries de vivres. Les enfants sont particulièrement vulnérables : environ 12 % des enfants ghanéens de moins de cinq ans ont un poids insuffisant. En 2012, le Ghana occupait le 135^e rang sur 187 pays pour ce qui est de l'indice du développement humain établi par le Programme des Nations Unies pour le développement.

Le Ghana a assez bien réussi à atténuer les répercussions de la crise alimentaire mondiale de 2008 grâce à des programmes d'aide sociale et à d'autres mesures; il a entre autres supprimé les droits d'importation et les taxes sur les aliments et le carburant.

Le Ghana est toujours vulnérable aux effets persistants de la crise économique mondiale. La pauvreté s'est accentuée dans certains groupes de population, surtout les femmes, les agriculteurs et les personnes vivant dans les régions du Nord.

Site du Ministère des Affaires étrangères du Canada² – Avril 2015.

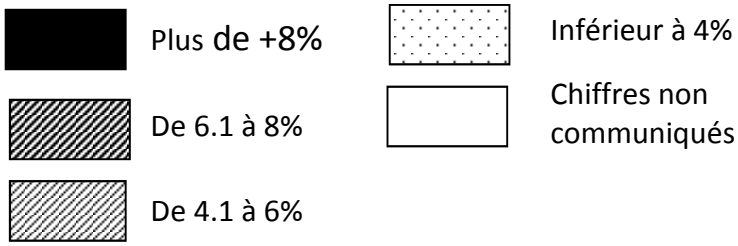
<http://www.international.gc.ca/development-developpement/countries-pays/ghana.aspx?lang=fra>

¹ En 2015, la population totale du Ghana s'élève à 27.2 millions d'habitants (O.N.U.)

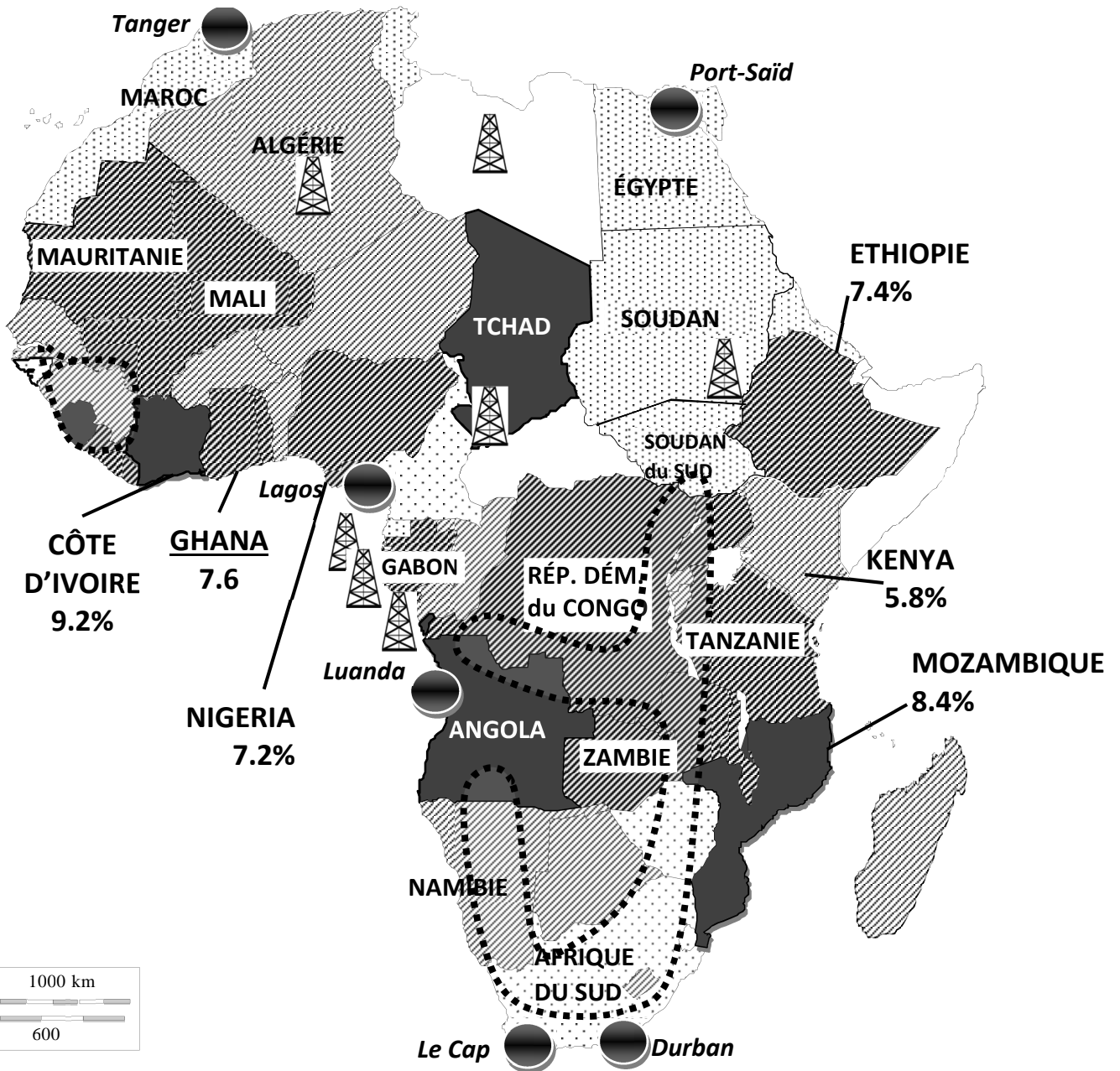
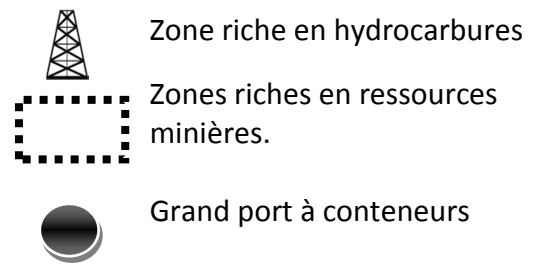
² Fiche technique de présentation de la situation socio-économique de pays avec lesquels le Canada commerce – document à destination du grand public, des entrepreneurs et investisseurs canadiens.

DOCUMENT 2 :

Prévision de l'évolution moyenne du PIB 2014-2015



Ressources et ports



D'après :

- les données de l'OCDE (année 2013). Site web: <http://stats.oecd.org/>
- « Principaux ports de Marchandises en Afrique en 2011 », La Documentation française
- Frank Tétart (sous la direction de), Grand Atlas 2015, 2011